

- | | |
|--|---|
| <input checked="" type="checkbox"/> 上市公司 实力雄厚 品牌保证 | <input checked="" type="checkbox"/> 权威师资阵容 强大教学团队 |
| <input checked="" type="checkbox"/> 历次学员极高考通过率 辅导效果有保证 | <input checked="" type="checkbox"/> 辅导紧跟命题 考点一网打尽 |
| <input checked="" type="checkbox"/> 辅导名师亲自编写习题与模拟试题 直击考试精髓 | <input checked="" type="checkbox"/> 专家 24 小时在线答疑 疑难问题迎刃而解 |
| <input checked="" type="checkbox"/> 资讯、辅导、资料、答疑 全程一站式服务 | <input checked="" type="checkbox"/> 随报随学 反复听课 足不出户尽享优质服务 |

开设班次：（请点击相应班次查看班次介绍）

基础班	串讲班	精品班	套餐班	实验班	习题班	高等数学预备班	英语零起点班
-----	-----	-----	-----	-----	-----	---------	--------

网校推荐课程：

思想道德修养与法律基础	马克思主义基本原理概论	大学语文	中国近现代史纲要
经济法概论（财经类）	英语（一）	英语（二）	线性代数（经管类）
高等数学（工专）	高等数学（一）	线性代数	政治经济学（财经类）
概率论与数理统计（经管类）	计算机应用基础	毛泽东思想、邓小平理论和“三个代表”重要思想概论	


[更多辅导专业及课程>>](#)

[课程试听>>](#)


[我要报名>>](#)

浙江省 2010 年 10 月高等教育自学考试 工程图学基础试题 课程代码：06918

一、标注识别（本大题共 3 小题，每小题 4 分，共 12 分）

1.  该图表示的内容为？


2.  该图表示的内容为？

3.  该图表示的内容为？

二、名词解释（本大题共 3 小题，每小题 4 分，共 12 分）

1. 建施
2. 标志尺寸
3. 建筑面积

三、绘制如下模型的三面正投影图，尺寸从图中量取。（本大题 21 分）



四、绘制图纸（本大题共 55 分）

根据提供的简化图纸（下图），按 1：100 绘制施工图，墙厚 240mm，在所给尺寸的基础上使用规范尺寸标注，并标出定位轴线。

要求：

1. 图纸比例准确，线形等级清晰。
2. 使用规范的图标和标注。
3. 图纸卷面清晰。

自考365
www.zikao365.com



