

2024年10月高等教育自学考试全国统一命题考试

计算机应用基础

(课程代码 00018)

注意事项:

1. 本试卷分为两部分, 第一部分为选择题, 第二部分为非选择题。
2. 应考者必须按试题顺序在答题卡(纸)指定位置上作答, 答在试卷上无效。
3. 涂写部分、画图部分必须使用2B铅笔, 书写部分必须使用黑色字迹签字笔。

第一部分 选择题

一、单项选择题: 本大题共20小题, 每小题1分, 共20分。在每小题列出的备选项中只有一项是最符合题目要求的, 请将其选出。

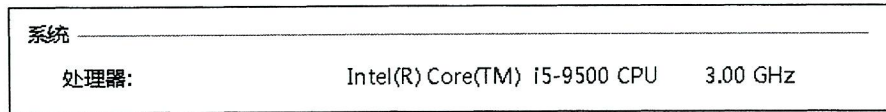
1. 计算机技术的发展趋势是微型化、网络化、智能化和
A. 巨型化 B. 大型化 C. 精巧化 D. 隐形化
2. 将十进制数40转换成八进制数为
A. 32 B. 40 C. 46 D. 50
3. 在微型计算机中, CPU可以直接访问的存储器是
A. U盘 B. 硬盘 C. 光盘 D. 内存
4. 高级语言程序翻译为机器语言有解释和编译两种方式, 解释程序区别于编译程序的特点是
A. 生成目标程序 B. 边解释边执行
C. 以机器语言运行程序 D. 形成一个完整的可执行程序
5. 按照用户数和任务数分类, Windows 10属于
A. 单用户单任务操作系统 B. 单用户多任务操作系统
C. 多用户单任务操作系统 D. 多用户多任务操作系统
6. 在Windows 10中, 可执行文件的扩展名是
A. bak B. exe C. obj D. sys
7. Word 2016的替换功能不包括
A. 替换图片 B. 替换数字 C. 替换分页符 D. 替换文本格式

8. 在Word 2016中, 下列功能默认位于“布局”选项卡的是
A. 设置字体颜色 B. 设置项目符号 C. 设置纸张大小 D. 设置页眉页脚
9. Word 2016提供的文档导航方式不包括
A. 标题导航 B. 页面导航 C. 索引导航 D. 结果导航
10. 在Excel 2016工作表中, 与列标“Z”相邻的下一个列标为
A. Z1 B. ZA C. A1 D. AA
11. 在Excel 2016的单元格中, 若要输入0001数字文本, 则应输入
A. '0001 B. "0001" C. =0001 D. 0 0001
12. 在Excel 2016中, 下列公式运算结果为TRUE的是
A. =TRUE+FALSE B. =TRUE=FALSE
C. =TRUE>FALSE D. =TRUE<FALSE
13. 在Excel 2016中, 切换单元格相对地址和绝对地址的快捷键是
A. F4 B. F3 C. F2 D. F1
14. 下列有关PowerPoint 2016动画的叙述中, 不正确的是
A. 有多种途径预览动画效果
B. 动画在播放时可以带有音效
C. 一个对象上可以同时设置多种动画类型
D. 单击动画刷可以将同一动画应用到多个对象
15. 在PowerPoint 2016中, 激活“超链接”功能的视图是
A. 大纲视图 B. 普通视图 C. 幻灯片放映视图 D. 幻灯片浏览视图
16. 下列有关位图和矢量图的叙述中, 不正确的是
A. 位图的清晰度与分辨率相关
B. 矢量图在缩放时不会丢失细节
C. 矢量图保存的是像素颜色信息
D. 位图与矢量图相比显示速度更快
17. 使用智能手机拍摄一张静态照片, 照片在手机中的媒体形式是
A. 图形 B. 图像 C. 动画 D. 视频
18. 下列设备中, 介于内部网络和因特网之间, 作为内部网络保护屏障的是
A. 网卡 B. 交换机 C. 路由器 D. 防火墙
19. 按照TCP/IP协议, IP地址194.1.1.1属于
A. A类地址 B. B类地址 C. C类地址 D. D类地址
20. 计算机用户进行万维网访问的主要应用程序是
A. 浏览器 B. 记事本 C. Photoshop D. Audition

第二部分 非选择题

二、填空题：本大题共 9 小题，每小题 2 分，共 18 分。

21. 某计算机属性中，处理器部分指标如题 21 图所示，该处理器的主频为_____。



题 21 图

22. 为了提高计算机运行速度，使计算机系统可同时执行多条指令的关键技术是_____。

23. Windows 10 的帐户类型包括管理员和_____帐户。

24. 在 Word 2016 中，文档页面顶部或底部区域可显示文档标题、文档生成时间等文档的附加信息，其中页面顶部的区域称为_____。

25. 在 Word 2016 中，更新目录包括更新整个目录和_____两种方式。

26. 在 Excel 2016 中，新建工作簿时自动创建一张工作表，该工作表的默认名称为_____。

27. 在 PowerPoint 2016 中，可以将幻灯片划分为不同组进行管理，该管理单位称为_____。

28. 声音信号的数字化过程包括采样、_____和编码。

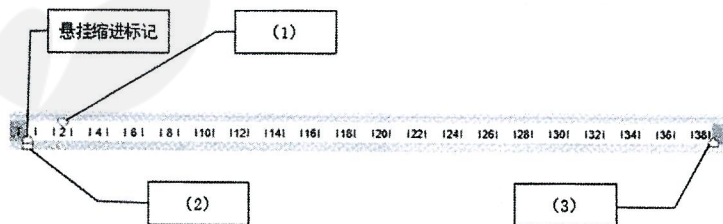
29. FTP 主要用于“下载”和“_____”网络中的文件。

三、简答题：本大题共 7 小题，每小题 6 分，共 42 分。

30. 计算机采用二进制存储数据，是因为二进制具有多种优势，写出其中 3 种。

31. 在 Windows 10 中，删除已被选中的文件有多种途径，写出其中 2 种。

32. 在 Word 2016 的水平标尺中有多个滑块，写出如题 32 图所示标识号指向的滑块名称。



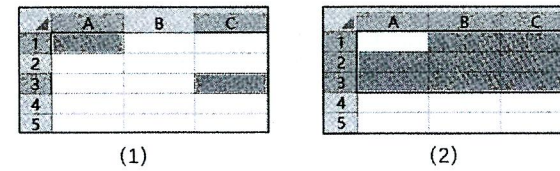
题 32 图

(1) _____

(2) _____

(3) _____

33. 在 Excel 2016 中，有如题 33 图所示的 2 个区域，写出每个选中单元格区域的地址引用。



题 33 图

(1) _____

(2) _____

34. 叙述 PowerPoint 2016 中占位符的概念，并写出 2 种可以利用占位符插入的对象。

35. 常见的数字音频文件格式有多种，如 wma 等，写出其他 3 种。

36. 计算机网络的传输介质有多种，如红外线等，写出其他 3 种。

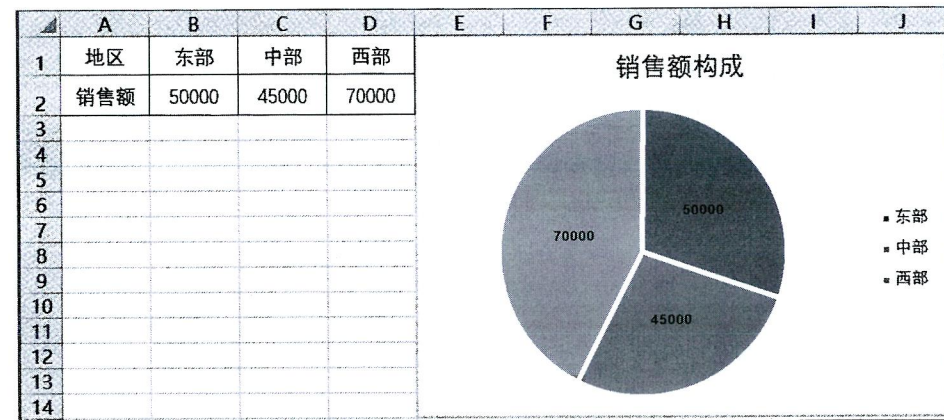
四、综合应用题：本大题共 2 小题，每小题 10 分，共 20 分。

37. 利用地区销售额数据创建如题 37 图所示图表，写出完成下列要求所需的操作步骤。

(1) 用“饼图”展示销售额数据；

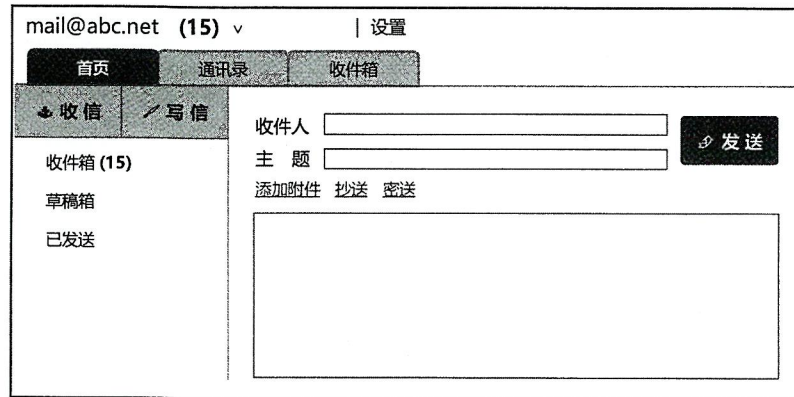
(2) 设置图表标题为“销售额构成”；

(3) 将图例置于图表右侧。



题 37 图

38. 李华最近注册了一个电子邮箱，他通过网页登录邮箱并单击“写信”按钮后，界面如题 38 图所示。



题 38 图

- (1) 界面中“收件箱 (15)”的含义是什么？
- (2) 写出完成下列要求所需的操作步骤。

李华将自己近期撰写的文章以附件形式发送给王明（电子邮箱地址为：wangming@abc.com）。邮件主题为“文章初稿”，要发送的文件“wz.docx”位于 D 盘根目录下。