

2024 年 10 月高等教育自学考试
服装立体裁剪(专)试题
课程代码:13576

1. 请考生按规定用笔将所有试题的答案涂、写在答题纸上。
2. 答题前,考生务必将自己的姓名、准考证号用黑色字迹的签字笔或钢笔填写在答题纸规定的位置上。

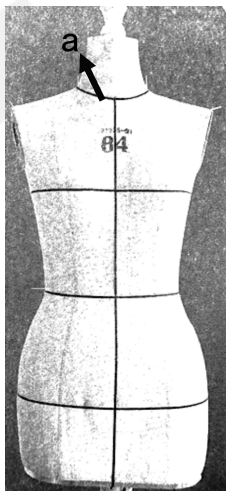
选择题部分

注意事项:

每小题选出答案后,用 2B 铅笔把答题纸上对应题目的答案标号涂黑。如需改动,用橡皮擦干净后,再选涂其他答案标号。不能答在试题卷上。

一、单项选择题:本大题共 10 小题,每小题 2 分,共 20 分。在每小题列出的备选项中只有一项是最符合题目要求的,请将其选出。

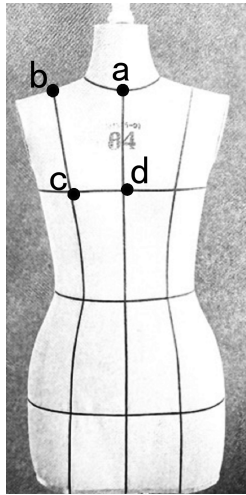
1. 服装造型设计中_____起到了承上启下的作用。
A. 结构设计 B. 色彩设计 C. 款式设计 D. 工艺设计
2. _____属于西方服装造型变化的立体式的完善时期。
A. 平面裁剪 B. 斜裁 C. 一片式裁剪 D. 立体裁剪
3. 现代服装设计的立体裁剪结构造型以_____为中心。
A. 绘画 B. 色彩 C. 面料 D. 人体
4. 图片中的 a 标示线是



题 4 图

- A. 领口线 B. 腰围线 C. 臀围线 D. 腹围线

5. FNP 是下图中_____点。



题 5 图

- A. a B. b C. c D. d
6. 在东华上衣原型的坯布准备中,用布宽度在 BL 线前中心线处还需加放_____cm。
A. 1 B. 10 C. 20 D. 50
7. 东华原型在袖窿处标记时需要标记_____位置。
A. 肩宽点、颈肩点以及袖窿底点
B. 肩宽点、胸宽点、背宽点以及袖窿底点
C. 胸宽点、背宽点以及袖窿底点
D. 肩宽点、胸宽点以及袖窿底点
8. 原型直裙绘制基础布纹线,其中后片的纬纱布纹线有_____条。
A. 1 B. 2 C. 3 D. 4
9. 原型直裙用布长度取_____至底边距离。
A. 胸围线 B. 腰围线 C. 腹围线 D. 臀围线
10. A 裙的用布宽度根据_____部位的量来量取。
A. 腰部 B. 腹部 C. 臀部 D. 裙摆

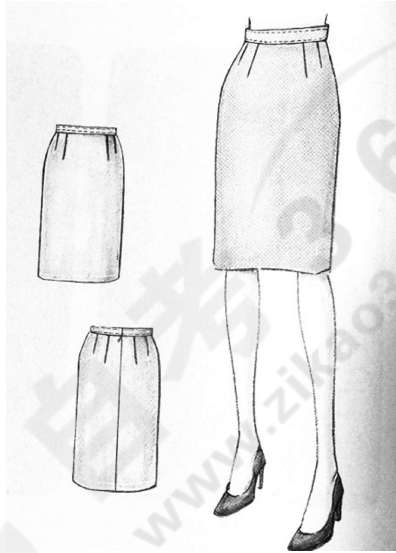
非选择题部分

注意事项：

用黑色字迹的签字笔或钢笔将答案写在答题纸上,不能答在试题卷上。

二、简答题:本大题共 2 小题,每小题 10 分,共 20 分。

11. 简述立体裁剪的基本操作流程中从确定款式到初步造型需要哪些步骤。
12. 对下图中的款式进行简要的款式分析,请从裙身廓形、结构要素、臀腰差处理以及裙腰造型等几个方面分析。



题 2 图

三、综合题:本大题共 2 小题,第 13 小题 40 分,第 14 小题 20 分,共 60 分。

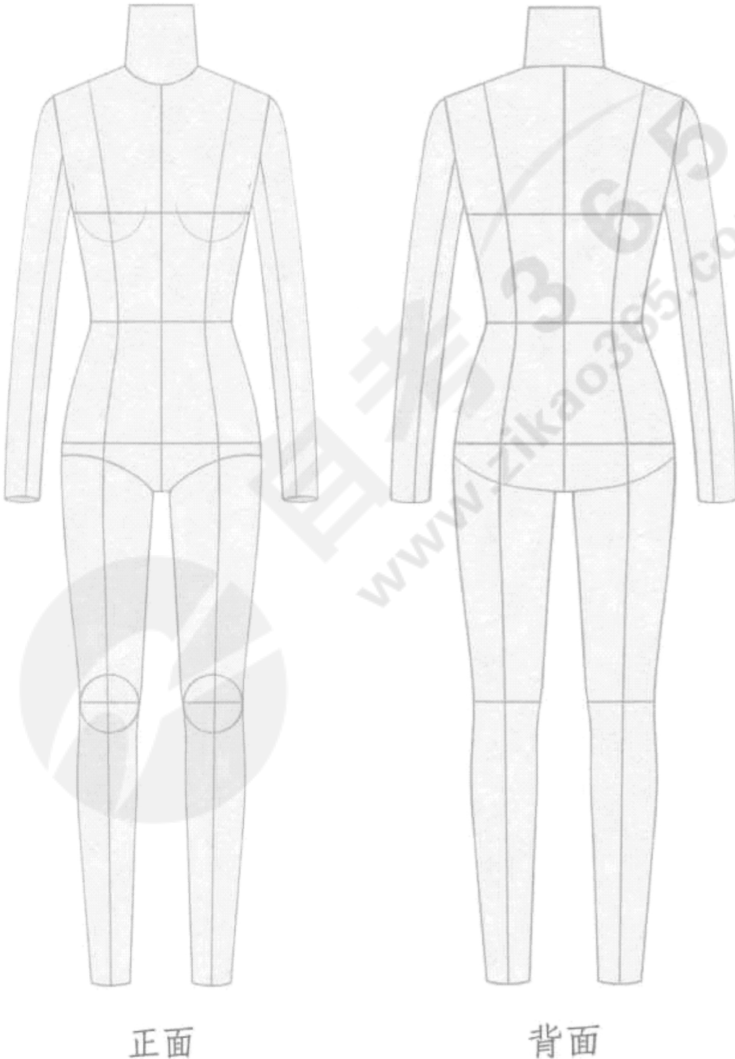
13. 以立裁人台为基础参考,合理运用省道变化和腰线变化元素设计一款常规断腰及膝连衣裙,绘制正面和背面款式效果图。(40 分)

要求:(1)设计图能较好的体现立体裁剪技术手法和服装风格特点。

(2)款式能够体现面料松量适度,比例协调、搭配合理。

(3)以黑白线稿图形式表达,自带铅笔、橡皮。

(4)衣片中需注明纱向符号。



14. 简要说明设计作品的立体裁剪过程和步骤。(20 分)