

2025年10月高等教育自学考试全国统一命题考试

计算机应用基础

(试卷代码 00018)

注意事项:

1. 本试卷分为两部分, 第一部分为选择题, 第二部分为非选择题。
2. 应考者必须按试题顺序在答题卡(纸)指定位置上作答, 答在试卷上无效。
3. 涂写部分、画图部分必须使用2B铅笔, 书写部分必须使用黑色字迹签字笔。

第一部分 选择题

一、单项选择题: 本大题共20小题, 每小题1分, 共20分。在每小题列出的备选项中只有一项是最符合题目要求的, 请将其选出。

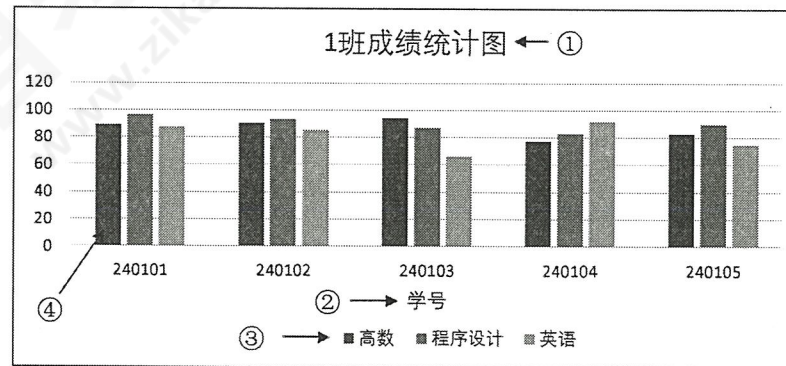
1. 按照计算机规模分类, 我国自主研发的“神威·太湖之光”属于
  - A. 微型计算机
  - B. 小型计算机
  - C. 大型计算机
  - D. 超级计算机
2. 下列存储容量中, 最大的是
  - A. 2<sup>30</sup>KB
  - B. 2<sup>20</sup>MB
  - C. 2000GB
  - D. 1TB
3. 下列属于应用软件的是
  - A. 鸿蒙
  - B. iOS
  - C. Unix
  - D. AutoCAD
4. 下列属于计算机输入设备的是
  - A. 麦克风
  - B. 显示器
  - C. 打印机
  - D. 绘图仪
5. 若要设置 Windows 10 帐户密码, 可使用
  - A. 控制面板
  - B. 任务管理器
  - C. 设备管理器
  - D. 文件资源管理器
6. 在 Windows 10 中, 若要打开记事本程序, 则可在“运行”对话框中输入
  - A. mspaint
  - B. notepad
  - C. write
  - D. psr
7. 在 Word 2016 中, 能够将插入点所在段落整体向右移动的段落设置方式是
  - A. 左缩进
  - B. 右缩进
  - C. 首行缩进
  - D. 悬挂缩进

8. 在 Word 2016 中, 若需同时选中多个不连续的文本块, 则应在拖拽鼠标的同时按住
  - A. Alt 键
  - B. Ctrl 键
  - C. Shift 键
  - D. Shift + Alt 键
9. 在 Word 2016 中, 打开文件 old.docx, 输入文本“计算机”后另存为 new.docx, 则下列叙述正确的是
  - A. new.docx 中包含“计算机”, 且被关闭
  - B. old.docx 保持打开前的内容, 且被关闭
  - C. new.docx 覆盖 old.docx, 且处于打开状态
  - D. old.docx 中写入“计算机”, 且处于打开状态
10. 在 Excel 2016 的公式“=A1+\$C5”中, “\$C5”的单元格地址引用方式是
  - A. 相对引用
  - B. 绝对引用
  - C. 交叉引用
  - D. 混合引用
11. 在 Excel 2016 中, A1 单元格的内容为“abc”, 若在 A2 单元格输入公式“=A1+5”后, 则 A2 单元格显示
  - A. #N/A
  - B. #####
  - C. #VALUE!
  - D. #NAME?
12. 在 Excel 2016 中, 若令 A1 单元格的内容显示如题 12 图所示, 则应输入

	A	B
1	0123	
2		

题 12 图

- A. 0123
  - B. ,0123
  - C. '0123
  - D. "0123
13. 在如题 13 图所示 Excel 2016 图表中, 对图表里的一些元素进行编号, 其中图例的编号是



题 13 图

- A. ①
  - B. ②
  - C. ③
  - D. ④
14. 下列有关 PowerPoint 2016 自定义放映的叙述中, 错误的是
    - A. 一个演示文稿只能创建一个自定义放映
    - B. 自定义放映是一种演示文稿的个性化放映
    - C. 在“自定义幻灯片放映”的下拉列表中, 可启动自定义放映
    - D. 在“定义自定义放映”的对话框中, 可选择幻灯片的播放次序

15. 在 PowerPoint 2016 中, 下列扩展名属于模板文件的是  
 A. ppt                      B. potx                      C. ppsx                      D. pptx
16. 下列没有采用压缩存储的图像格式是  
 A. BMP                      B. GIF                      C. PNG                      D. JPEG
17. 下列有关 MIDI 的叙述中, 正确的是  
 A. MIDI 是数字音乐国际标准                      B. MIDI 文件的扩展名为 midx  
 C. MIDI 是一种有损压缩音频格式                      D. MIDI 文件记录的是声音波形数据
18. 在 IPv4 协议中, IP 地址 11.25.12.1 的主机号是  
 A. 1                      B. 11                      C. 12.1                      D. 25.12.1
19. 在域名 www.abc.edu.cn 中, edu 代表的是  
 A. 网络机构                      B. 商业组织                      C. 教育机构                      D. 政府部门
20. 下列有关广域网的叙述中, 错误的是  
 A. 通常使用高速光纤作为传输介质                      B. 通常需要经过多个网络设备转发  
 C. 相对局域网, 管理与维护较简单                      D. 相对城域网, 数据传输距离更远

## 第二部分 非选择题

二、填空题: 本大题共 9 小题, 每小题 2 分, 共 18 分。

21. 数据库系统由数据库、\_\_\_\_\_和相应的应用程序组成。
22. 计算机中 CPU、存储器和输入输出设备之间传送信息的共享通道称为\_\_\_\_\_。
23. 在 Windows 10 中, 默认创建的 4 个库分别是“视频”“音乐”“图片”和“\_\_\_\_\_”。
24. 在 Word 2016 文档中有如题 24 图所示的表格, 若只选中字母“E”所在的单元格, 通过其快捷菜单中的“删除单元格”命令执行一次操作, 不可能被删除的字母是“\_\_\_\_\_”。

	D	
B	E	H
	F	K

题 24 图

25. 在 Word 2016 中, 某段落文本排版效果如题 25 图所示, 该排版设置了首字\_\_\_\_\_格式。

**黄**河发源于青藏高原巴颜喀拉山北麓的约古宗列盆地, 自西向东分别流经青海、四川、甘肃、宁夏、内蒙古、山西、陕西、河南及山东 9 个省(自治区), 最后流入渤海。

题 25 图

26. 在 Excel 2016 中, 若要计算 A1 到 F1、A6 到 F6 两个单元格区域的数值总和, 则公式为“=SUM(\_\_\_\_\_)”。
27. 在 PowerPoint 2016 中新建一个演示文稿, 第一张幻灯片默认的版式是\_\_\_\_\_。
28. 若某图像在水平方向上有 1024 个像素, 在垂直方向上有 768 个像素, 则该图像的分辨率为\_\_\_\_\_。
29. 按网络作用的地域范围分类, 办公室的 10 台电脑和 2 台打印机组成的网络属于\_\_\_\_\_。

三、简答题：本大题共 7 小题，每小题 6 分，共 42 分。

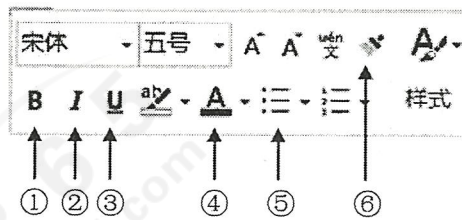
30. 将十进制数 97 转换成二进制数和八进制数。

31. 题 31 图显示了 Windows 10 桌面的部分图标，写出其中系统图标的名称。



题 31 图

32. 写出 Word 2016 中如题 32 图所示的①~⑥命令按钮的功能。



题 32 图

① \_\_\_\_\_；② \_\_\_\_\_；③ \_\_\_\_\_；

④ \_\_\_\_\_；⑤ \_\_\_\_\_；⑥ \_\_\_\_\_。

33. 现有如题 33 图所示的 Excel 2016 数据清单，根据图中的筛选条件，写出筛选结果中数据记录的学号。

	A	B	C	D
1	学号	高等数学	英语	程序设计
2	2240001	68	89	87
3	2240002	92	90	86
4	2240003	81	85	91
5	2240004	95	91	85
6	2240005	90	96	92
7	2240006	78	69	81
8				
9				
10		高等数学	英语	程序设计
11		>=90	>=85	>=85
12				
13				
14				
15				

高级筛选

方式

在原有区域显示筛选结果(F)

将筛选结果复制到其他位置(O)

列表区域(L): \$A\$1:\$D\$7

条件区域(C): \$B\$10:\$D\$11

复制到(R): \$A\$13

选择不重复的记录(R)

确定 取消

题 33 图

34. 简述在 PowerPoint 2016 中幻灯片切换效果与动画效果的区别。

35. RGB 颜色模型中真彩色的每一种基本色用一个字节量化，回答下列问题。

(1) 写出其中一种基本色的取值范围（用十进制表示）；

(2) 计算该颜色模型能表示的颜色总数量。

36. 写出下列常用英文术语在计算机网络领域的中文含义。

(1) FTP: \_\_\_\_\_；

(2) Telnet: \_\_\_\_\_；

(3) DNS: \_\_\_\_\_。


四、综合应用题：本大题共 2 小题，每小题 10 分，共 20 分。

37. 在 Word 2016 中，某段落排版效果如题 37 图所示，写出完成下列任务所需的操作步骤。

(1) 给梯形图片添加边框；

(2) 实现梯形图片的文字环绕效果。

猫是食肉目猫科猫属哺乳动物。绝大多数都属短毛品种，主要包括云猫、山东狮子猫、狸花猫、四川简州猫等品种。云猫的毛色呈棕黄或黑灰色，头部为黑色，眼睛的下白斑，身体两侧为黑色花斑，背部有数条黑色纵为黑褐色。山东狮子猫尾部粗大，毛色主要为白色，也有黄色和黑白花的。狸花猫除颈、腹下毛色为灰白色外，其余部分均为黑灰色条纹，形如虎皮。



题 37 图

38. 制作如题 38 图所示的网页，将下列 HTML 代码补充完整。



题 38 图

```
<!DOCTYPE html>
<html>
<head>
  <title>____(1)____</title>
<____(2)____>
<body>
  <____(3)____ ____ (4) ____="个人照片.png">
  <h1>张某某</h1>
  <p>我是一名前端工程师，热爱编程和设计。</p>
  <p>Email: example@example.com____(5)____
    Phone: 123-456-7890</p>
</body>
</html>
```