

中国十大品牌教育集团 中国十佳网络教育机构



- 自考名师全程视频授课，图像、声音、文字同步传输，享受身临其境的教学效果；
- 权威专家在线答疑，提交到答疑板的问题在 24 小时内即可得到满意答复；
- 课件自报名之日起可反复观看不限时间、地点、次数，直到当期考试结束后一周关闭；
- 付费学员赠送 1G 超大容量电子信箱；及时、全面、权威的自考资讯全天 24 小时滚动更新；
- 一次性付费满 300 元，即可享受九折优惠；累计实际交费金额 500 元或支付 80 元会员费，可成为银卡会员，购课享受八折优惠；累计实际交费金额 1000 元或支付 200 元会员费，可成为金卡会员，购课享受七折优惠（以上须在同一学员代码下）；

英语/高等数学预备班：英语从英文字母发音、国际音标、基本语法、常用词汇、阅读、写作等角度开展教学；数学针对有仅有高中入学水平的数学基础的同学开设。通过知识点精讲、经典例题详解、在线模拟测验，有针对性而快速的提高考生数学水平。[立即报名！](#)

基础学习班：依据全新考试教材和大纲，由辅导老师对教材及考试中所涉及的知识进行全面、系统讲解，使考生从整体上把握该学科的体系，准确把握考试的重点、难点、考点所在，为顺利通过考试做好知识上、技巧上的准备。[立即报名！](#)

冲刺串讲班：结合历年试题特点及命题趋势，规划考试重点内容，讲解答题思路，传授胜战技巧，为考生指出题眼，提供押题参考。配合高质量全真模拟试题，让学员体验实战，准确地把握考试方向、将已掌握的应试知识融会贯通，并做到举一反三。[立即报名！](#)

历年真题测评班：通过真题的在线模拟测试，由自考 365 网校的专家名师指明未来考试中可能出现的“陷阱”、“雷区”、“误区”，帮助学员减少答题失误，提高学员驾驭和应用所学知识的能力，迅速提高应试技巧和强化所学知识，顺利通过考试！[立即报名！](#)

论文答辩与毕业申请指导班：来自主考院校的指导老师全程视频授课，系统阐述申报自考论文的时间、论文的选题、论文的格式及内容、与导师的沟通技巧等，并提供论文范例供学员参考。[立即报名！](#)

自考实验班：针对高难科目开设，签协议，不及格返还学费。全国限量招生，报名咨询 010-82335555 [立即报名！](#)

浙江省 2007 年 4 月高等教育自学考试


土木工程制图试题

课程代码：02386

一、单项选择题(本大题共 10 小题，每小题 1 分，共 10 分)

在每小题列出的四个备选项中只有一个是符合题目要求的，请将其代码填写在题后的括号内。错选、多选或未选均无分。

- 1.在建筑施工图中，标高单位为（ ）
A.米
B.分米
C.厘米
D.毫米
- 2.建筑平立剖常用的比例为（ ）
A.1：5、1：10
B.1：10、1：20
C.1：50、1：100
D.1：300、1：500
- 3.楼层建筑平面图表达的主要内容包括（ ）
A.平面形状、内部布置
B.梁柱等构件的代号
C.楼板的布置及配筋
D.外部造型及材料

- 4.在土木工程施工图中,尺寸线应采用()
- A.点画线 B.细实线
C.中实线 D.虚线
- 5.在结构平面图中,构件代号 YTL 表示()
- A.预制梁 B.檐口梁
C.雨篷梁 D.阳台梁
- 6.直线 AB 的正面投影反映实长,该直线为()
- A.水平线 B.正平线
C.侧平线 D.一般位置线
- 7.平面与正圆锥面截交,当平面与锥面上一素线平行时截交线为()
- A.椭圆 B.双曲线
C.抛物线 D.直线
- 8.在建筑详图中,材料图例  表示()
- A.混凝土 B.保温材料
C.金属材料 D.玻璃
- 9.某平面图形的水平投影为一直线,该平面为()
- A.正垂面 B.侧垂面
C.水平面 D.铅垂面
- 10.正面斜二测轴测图中,三向变形系数 p、q、r 分别为()
- A.1、1、1 B.0.5、1、1
C.1、0.5、1 D.1、1、0.5

二、填空题(本大题共 10 小题,每小题 1 分,共 10 分)

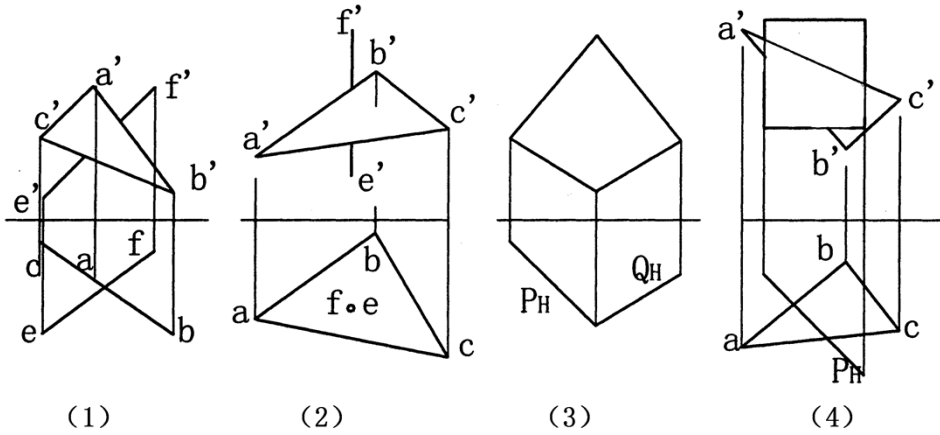
请在每小题的空格中填上正确答案。错填、不填均无分。

- 1.点的坐标为(15, 25, 10),则该点离开 V 面的距离为_____。
- 2.建筑施工图中,定位轴线应采用_____线型来绘制。
- 3.路基路面施工图是采用_____方式来表示的。
- 4.在用剖面绘制建筑详图时,剖到的轮廓线应画成_____线。
- 5.平面对 H 平面的最大斜度线与平面内的_____线垂直。
- 6.在建筑设计图中透视图是用中心投影法绘制的,它只起_____作用。
- 7.用垂直于回转轴的平面截回转体,所截得的图形为_____。
- 8.在建筑装饰施工图中,吊顶平面应采用_____来表示。

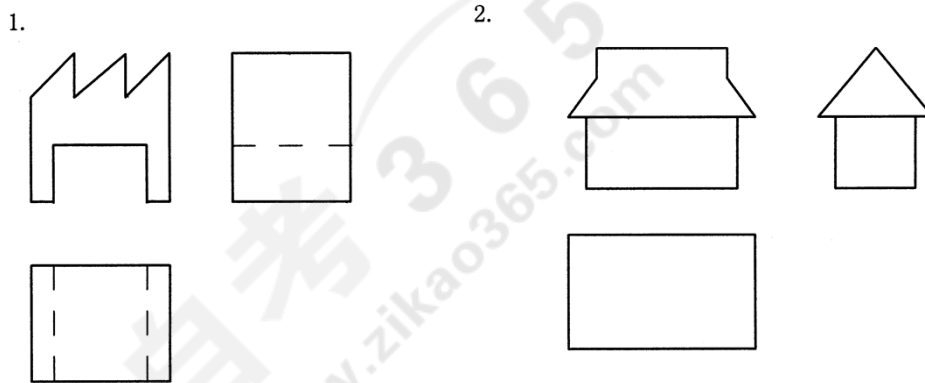
9. 在楼梯结构平面图中，楼梯梁用代号_____表示。

10. 楼层建筑平面图实为水平剖面，其剖切位置一般在该楼层_____上方。

三、求直线与平面、平面与平面的交点 K 或交线 MN，并判定可见性。(本大题共 4 小题，每小题 2 分，共 8 分)

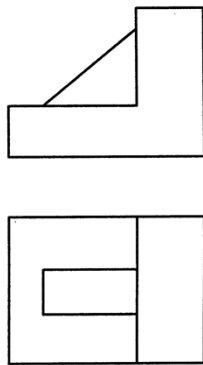


四、补全视图中所缺的线条。(本大题共 2 小题，每小题 5 分，共 10 分)

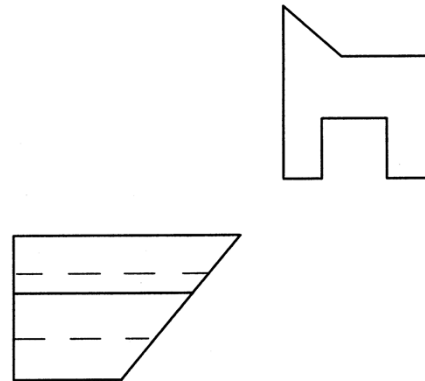


五、补第三视图。(本大题共 2 小题，每小题 6 分，共 12 分)

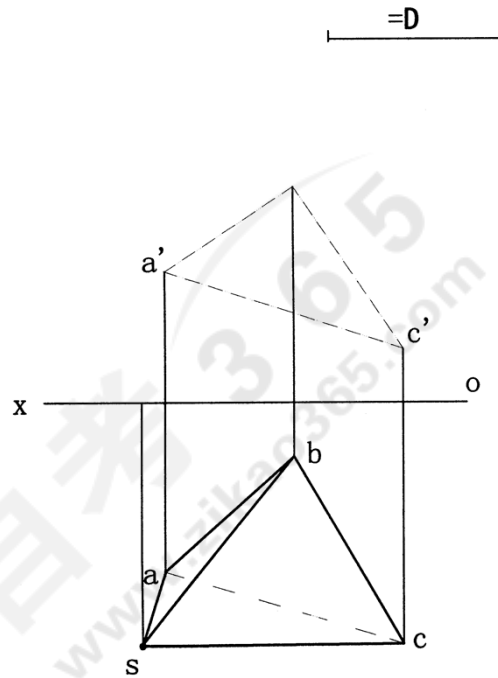
1. 补左视图





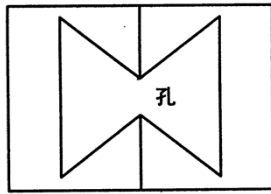
2. 补前视图



六、已知三棱锥顶点 S 到底 ABC 的距离（即高）为 D ，求作三棱锥的 V 面投影。（本大题 8 分）



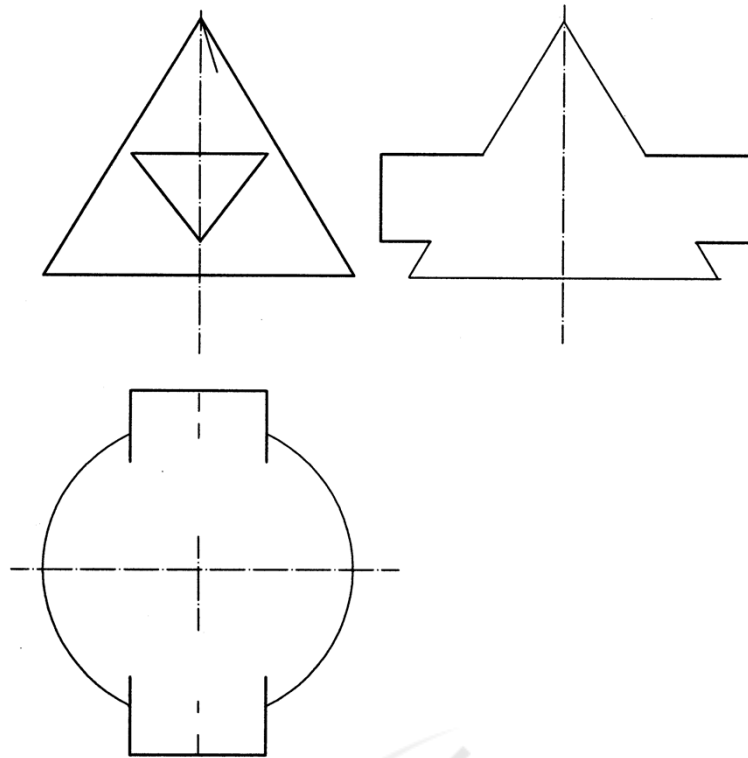
七、求作穿孔四棱柱的 H 、 W 投影。（本大题 10 分）



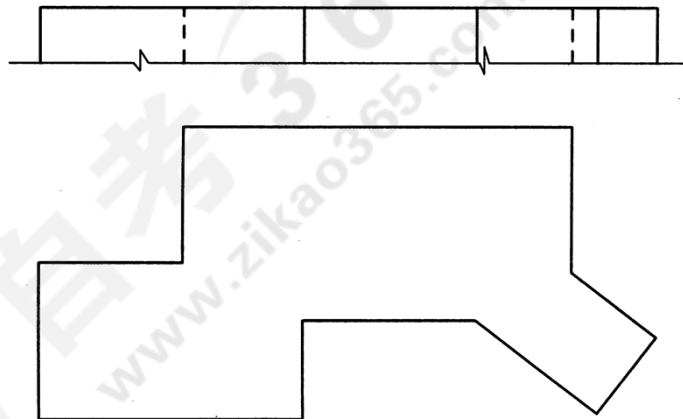
八、求作三棱柱与圆锥相贯线的 H、W 投影。(本大题 10 分)

自考365
www.zikao365.com

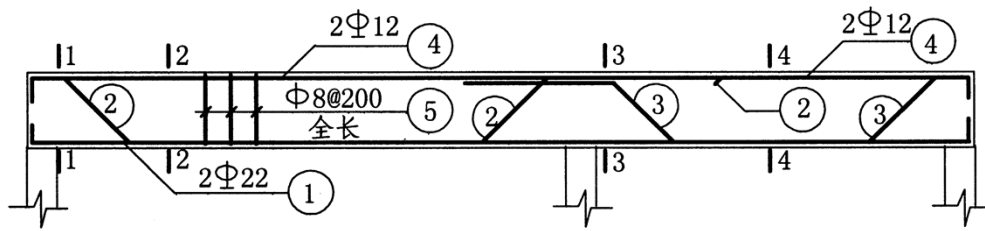




九、已知同坡屋面的檐口线及坡度 (1:1)，完成 H、V 面投影。(本大题 12 分)



十、补全梁的断面 2-2, 3-3。(本大题 10 分)



立面 1:n

